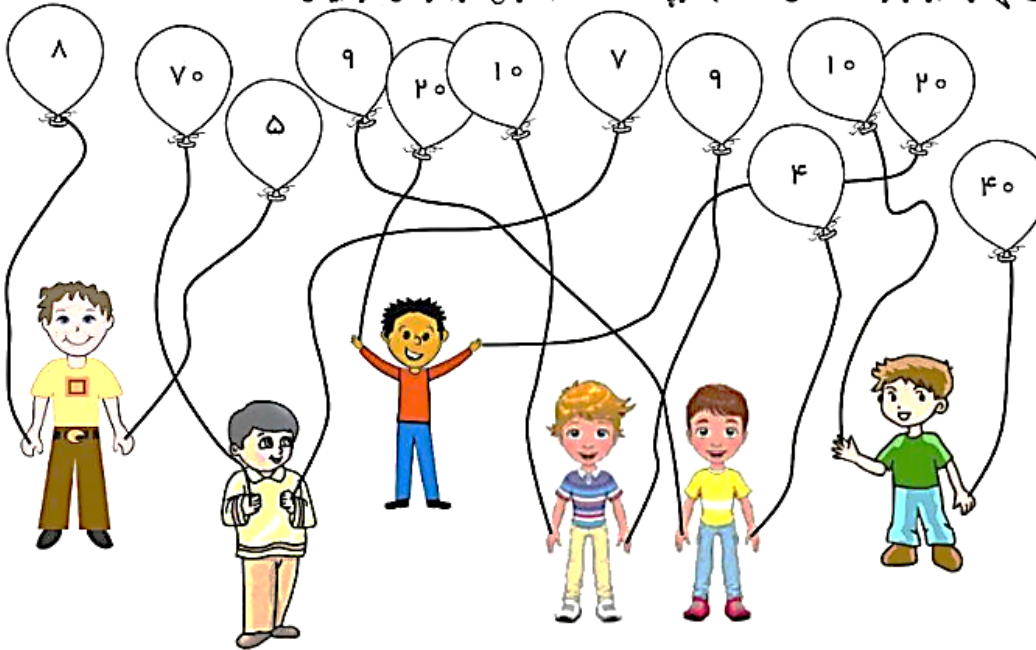








نام زیبای من:
 تاریخ:

با توجه به یادگنج های هر کدام از بچه ها مانند نمونه جمع مربوط به آن را بنویس.



| | | |
|--|---|---|
|  ۸ + ۵ = ۱۳ |  + = |  + = |
|  + = |  + = |  + = |

با چوب خط جمع های زیر را حساب کن.

۶ + ۵ + ۸ =


۳ + ۹ + ۴ =

جملات زیر را با استفاده از کلمات داده شده کامل کن. (مثلث - باعث - کثیف - مثل) -
 ثریا.....خواهرش کتاب خواندن را دوست دارد.

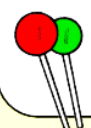
میوه ی انسان را بیمار می کند.

هر..... سه تا گوشه دارد.

مسئله را با رسم چوب خط حل کن سوالات مفهومی را با فرزند خود به خوبی کار کنید!!!

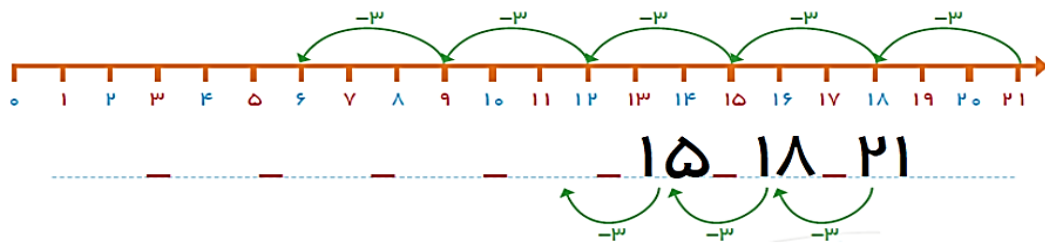


۷ گربه در کوچه بودند. ۶ گربه ی دیگر به آن ها اضافه شدند. ۳ گربه ی دیگر هم آمدند. چند گربه در کوچه است؟



۵ آب نبات در لیوان بود. زهرا ۸ آب نبات دیگر به آن ها اضافه کرد. مینا هم ۴ آب نبات دیگر آورد. حالا چند آب نبات در لیوان است؟

الگوی محور ها را کامل کن.



جمله سازی کن.



جملات زیر را با استفاده از کلمات داده شده کامل کن. (لذت - دلپذیر - ذرت - لذیذ)
 خانواده ی ما از تماشای ماه می برند.
 مادر بزرگم یک درست کرد.
 هوای پارک جنگلی بود.
 من را با سس می خورم.
 به عدد و حروف بنویس. لطفا مثال های دیگری هم کار شود.

۲۲

۳۷

۴۹

شصت

هشتاد و دو

پيست و هفت

۵ مثال دیگر مشابه زیر در دفتر یادداشت شود. با رسم شکل، سپاس از همکاری شما... :-)

مینا ۱۹ شکلات دارد. مادرش به او ۵ شکلات دیگر داد. حالا مینا چند شکلات دارد؟



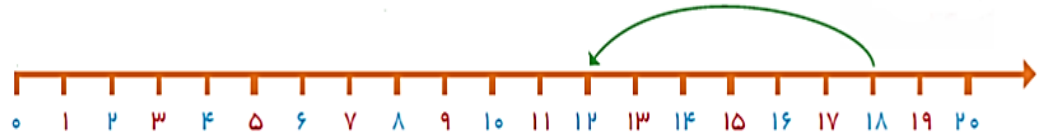
..... شکلات دارد

علی و رضا از درخت کلابی ۲۴ کلابی و از درخت انار ۸ تا انار چیدند. حالا آن ها روی هم چند تا میوه چیده اند؟



..... میوه چیده اند

۶ تا ۶ تا به عقب برگرد.



۱۰ بار بخوان و یک بار در دفتر یادداشت کن. سپس بزرگتر ها املا بگیرند. سپاس به نام او که به ما توانایی داد تا بتوانیم بخوانیم و بنویسیم. ثریا و علی خواهر و برادر هستند.

آن ها با شنیدن صدای آذان برای نماز آماده می شوند. بعد از نماز مثل پدر و مادرشان از خدای بزرگ تشکر می کنند. این دانش آموزان به مدیر و معاون مدرسه سلام می کنند. آموزگار گفت: مثلث سه گوشه و مربع چهار گوشه دارد. این خواهر و برادر هر شب دندان ولته هایشان را تمیز می کنند.