

با کلمات زیر جمله بساز .

دوست: .....



آرام : .....

برادر : .....


۵. جمله ها را زیبا کامل کن.

پدرم می گوید: " ما باید در زمستان .....


وقتی خورشید در آسمان می تابد،  
(۳) به اندازه ی عدد نوشته شده چوب خط بکش.

۱۶ →  ۱۹ → 




(۵) روی محور دو تا دو تا جلو برو و نوشتن عدد ها را ادامه بده.




۰ ۲ ۴ 

(۶) روی محور ۳ تا ۳ تا جلو برو و نوشتن را ادامه بده.

۰ ۳ ۶ 

(۷) حاصل جمع ها را رنگ کن و به دست بیاور.

$8 + 4 =$    

$9 + 7 =$    



پایه ی اول  
هفته سوم اسفند ماه



مدرسه آنلاین

نام زیبای من: .....  
تاریخ: .....

طرف دیگر این شکل ها را کامل کن.

عدد هر دسته را بنویس

عدد ها را ادامه بده

+۵ →

۲۸	۳۳						
----	----	--	--	--	--	--	--

+۱۰ →

۲	۱۲						
---	----	--	--	--	--	--	--

با عدد یا حروف بنویس.

نود و هفت	۶۳	پنجاه ونه
۴۸	هشتاد و هفت	۱۸

۴) جمله های مربوط به هر عدد را کامل کن.

۲۴ می شود  ده تایی و  یکی  
۱۷ می شود  ده تایی و  یکی

۱) نام هر شکل را بنویس.




۲) مانند نمونه انجام بده.

به چند ستاره می گوئیم ← ستاره ها  
به چند گل می گوئیم ←  
به چند ژاکت می گوئیم ←

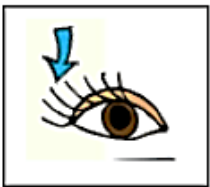
۵) کلمه های درهم ریخته را مرتب کن و بنویس.

از - بازار - منیژه - خرید - قارچ - سه - کیلو

برای تصویر زیر سه جمله بنویس.




نام شکل ها را بنویس



جمله بنویس  
ژاله:

بیشتر:

ماساژ:



حاصل جمع هر سه عدد را با کشیدن شکل با سه رنگ پیدا کن.

$$6 + 3 + 1$$

$$3 + 4 + 2$$