



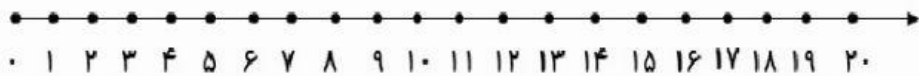
نام زیبای من:
تاریخ:

۱۱- مریم ۱۲ کیک داشت . ۵ تا از کیک ها را به دوستش داد . مریم چند کیک دارد؟
(عبارت آن را بنویس و روی محور هم نشان بده .)

۱۰- جواب بده.

$5 + 10 + 10 = \dots\dots\dots$ $40 + 30 = \dots\dots\dots$ $10 + 20 = \dots\dots\dots$

۸ مسافردراتوبوس بودند. ۶ مسافر دیگر هم سوار شدند. در ایستگاه ۵ مسافر دیگر هم سوار شدند.
حالا چند مسافر در اتوبوس هست؟ -----



با چوب خط حاصل را بدست آور. خانواده گرامی همکاری نمایید

$6 + 5 + 8 = \square$

$3 + 9 + 4 = \square$

ساعت چند است؟ خانواده گرامی ساعت را به خوبی با فرزند خود کار کنید(مخصوصا بین ساعت ها را).



۵ تا مثال مثل زیر در دفتر حل شود. سپاس

ساعت پین و است .

مثل مثال زیر در دفتر ۱۰ نمونه مساله طرح شود. سپاس

۱۳ شیرینی در ظرف بود . بچه ها ۸ تا از آن ها را خوردند. حالا چند شیرینی در ظرف مانده ؟



$13 - 8 = \square$ شیرینی در ظرف مانده

۹ پیاز سفید و ۶ پیاز قرمز در آشپزخانه بود . مادر ۷ تا از پیاز ها را در غذایخت . حالا چند پیاز باقی مانده است ؟

$\square + \square = \square$

..... پیاز در آشپزخانه است .

$\square - \square = \square$

..... پیاز باقی مانده .



متن زیر را ۱۰ بار بخوان و یک بار بنویس. (با هر بار خواندن، یکی از دایره ها را رنگ کن)

آصغر پسر عمومی رضا و علی آست.

آن ها در روز تعطیل به باغ پدر بزرگ رفتند.

آصغر دست به گل زد و ناگهان تیغ گل به دستش رفت.

او جیغ زد و بسیار غمگین شد.

خلزون از خواب بیدار شد. خیلی آرام حرکت کرد.

او هر روز صبح زود به کنار سبزه ها می رود و صبحانه می خورد.

صادق و صابر برادران دو قلو هستند.

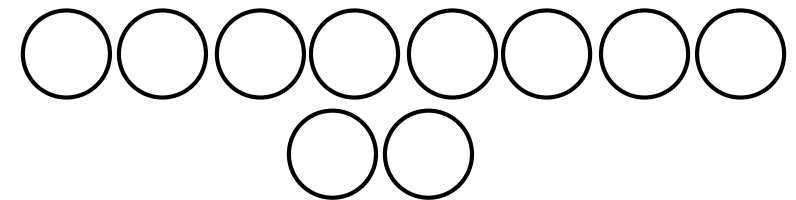
آن ها در کلاس اول درس می خوانند.

مژگان و مهدی خواهر و برادر هستند.

آن ها همیشه زود از خواب بیدار می شوند.

قاسم قایق سواری روی دریای آبی را دوست دارد.

رتگ قایق او قرمز است.



درس لاک پشت و مرغابی ها را بخوان و برای نشانه های زیر به تعداد ابرها کلمه پیدا کن



ج ج

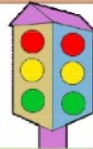
غ غ
غ غ

پ پ

چ چ

س س

نام تصاویر زیر را بنویس.



جمله بساز

